

**Universitat de Barcelona**  
**Facultat de Formació del Professorat**  
**Departament de Didàctica de les Ciències Socials**

**L'AVAUACIÓ DE CORRECCIÓ OBJECTIVA**  
**COM A INSTRUMENT DIDÀCTIC PER A**  
**L'EFICIÈNCIA EN L'APRENTATGE**  
**DE LA HISTÒRIA**

**TESI DOCTORAL**

**YOLANDA INSA SAURAS**

**Director: CRISTÒFOL-A. TREPAT I CARBONELL**

**Barcelona, 2008**

# ANNEXOS

# **ANNEX 6:**

## **Prova final**



## HISTÒRIA. Primer d'ESO

### EXAMEN FINAL

COGNOMS: .....nom:.....

GRUP:.....

---

1. Escriu en xifres romanes el segle al qual pertanyen els anys següents:

*Exemple: L'any 632 pertany al segle VII*

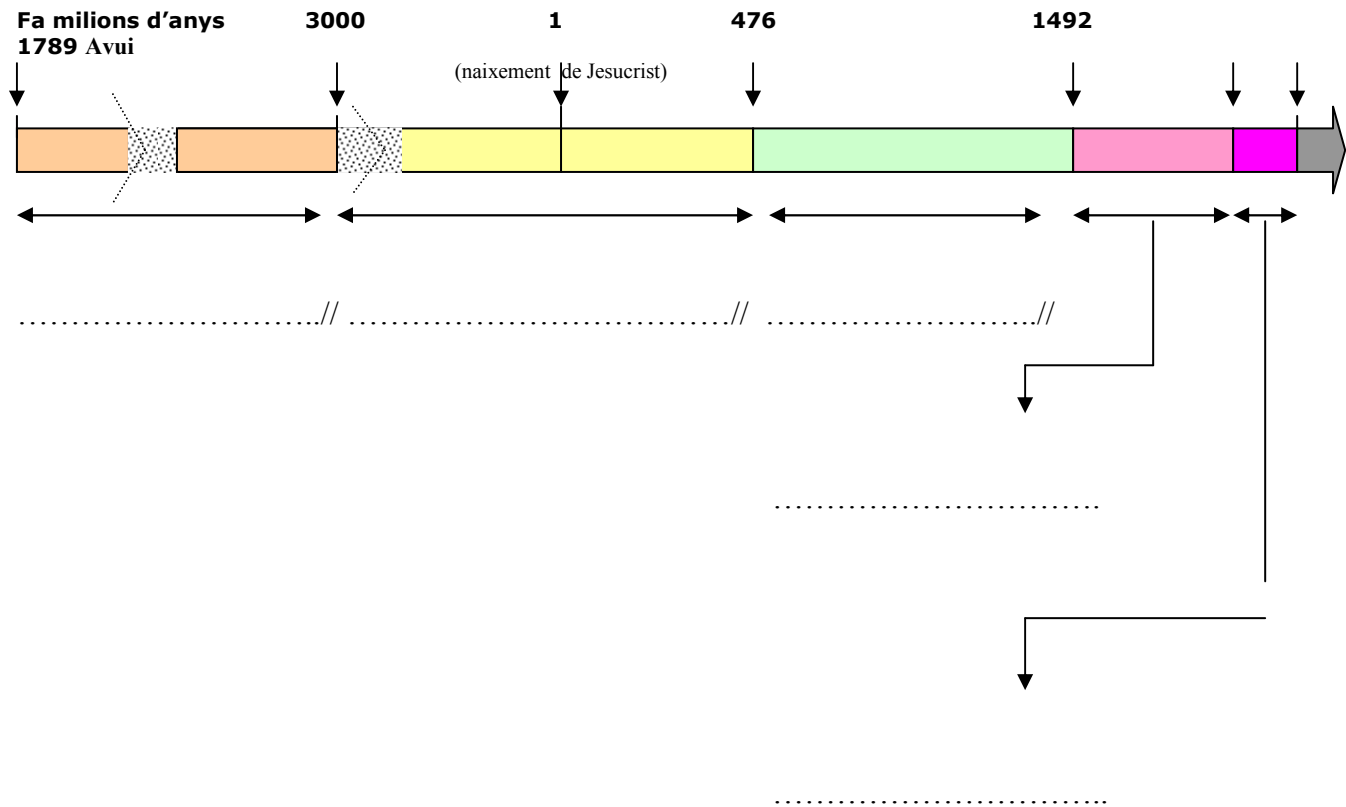
- a) L'any 476 pertany al segle .....
- b) L'any 1502 pertany al segle .....
- c) L'any 1789 pertany al segle .....
- d) L'any 1945 pertany al segle .....
- e) L'any 2006 pertany al segle .....

2. Escriu per ordre de més antiga a més moderna les següents dates a la casella corresponent:

*758 aC, 476 dC, 509 aC, 3.000 aC, 1950 dC, segle III dC, segle II aC.*

<b>1</b> <b>(més antic)</b>	<b>3000 aC</b>
<b>2</b>	
<b>3</b>	
<b>4</b>	
<b>5</b>	
<b>6</b>	
<b>7</b> <b>(Més modern)</b>	<b>1950 dC</b>

3. Situa correctament en el fris, en l'espai de les línies de punts, les cinc etapes en què els historiadors divideixen la Història.



4. A continuació tens dues imatges. Marca amb una X la casella que correspongui.

A



B



	Sí	No
La imatge <b>A</b> correspon a la civilització de l'Antiga Grècia		
La imatge <b>B</b> correspon a la civilització de l'Antic Egipte		
La imatge <b>A</b> és una escultura exempta		
La imatge <b>B</b> és un temple		

**5. Indica si el fet històric esmentat és polític, social, econòmic o cultural. Marca amb una X la casella corresponent.**

	Polític	Social	Econòmic	Cultural o religiós
Les pintures rupestres del Paleolític representaven animals aïllats				X
Al segle XIV aC el faraó Akenaton va proclamar que només existia un déu que era Aton o el disc solar.				
Els grecs d'Empúries tenien moneda pròpia				
El grec Clístenes va ser el qui va instaurar la primera democràcia del món Antic				
Durant l'època romana hi havia persones lliures i persones esclaves				
Al Paleolític les persones vivien de la caça, la pesca i la recol·lecció				

**6. Completa aquest text triant per a cada espai en blanc la paraula que et sembli més adequada de les dues que apareixen entre parèntesi.**

Quan els éssers humans van passar de ser .....

(*nòmades / estables*) a sedentaris, es van veure obligats a

construir.....(*ciutats / poblats*) on vivien tot l'any

controlant el creixement de les collites. Es va continuar tallant la

.....(*pedra / terra*), però les tècniques es van perfeccionar:

ara es polia. Una de les eines més utilitzades en aquest període va ser la destral;  
 també es fabricaven aixades i falçs. Per emmagatzemar el gra de la collita es va  
 crear la .....(ceràmica / cuina), que també es  
 va utilitzar per coure els aliments. Tot això va passar en el  
 ..... (paleolític / neolític).

**7. ¿Quina o quines de les afirmacions següents seria correcta per completar l’afirmació que hi ha a continuació?**

**La religió de l’Antic Egipte.....**

	Sí	No
... era monoteista.		
... creia en la vida d’ultratomba.		
... obligava a incinerar els cossos dels difunts i a dipositar les cendres en urnes.		
... creia que per accedir a la vida eterna calia conservar el cos dels difunts		

**8. Llegeix el text següent i respon breument a les preguntes que se’t fan a continuació**

*iSalut a tu, oh Nil, que véns a fer viure Egipte! Tu que regues el desert! Si el Nil triga, aleshores tot home es troba en la misèria. Et saludem com un rei quan retornes a l’època de la crescuda i omplis l’Alt i el Baix Egipte. (...) iOh, Nil!, expandeix-te, tu que fas viure homes i ramats fertilitzant els camps.*  
**Gran Himne al Nil (3 000- 2 000 aC)**

1. Quina és la idea principal d’aquesta font?

.....  
 .....



2. A què es refereix el text quan parla d'Alt i de Baix Egipte?

.....

.....

3. Per què "si el Nil triga, aleshores tot home es troba en la misèria"?

.....

.....

4. Aquesta font és primària o secundària? Per què?

.....

.....

**9. Quina o quines de les afirmacions que es fan a propòsit d'aquest text sobre l'època arcaica de l'Antiga Grècia són certes?**

*Tots els pagesos estaven endeutats amb els rics: alguns havien de pagar una sisena part del que collien; d'altres, oferint com a garantia d'un préstec la seva pròpia persona, acabaven sent propietat del creditor\*, el qual se'ls quedava com a esclaus o els venia; molts es veien obligats a vendre els fills o a emigrar per sostreure's a la duresa dels creditors.*

**Plutarc** (un escriptor grec del segle I dC)

\* Persona que deixa els diners

	<b>Sí</b>	<b>No</b>
Els pagesos havien de demanar diners als rics per sobreviure.		
Si un pagès no podia pagar el deute perdia les terres que cultivava però sempre quedava lliure.		
Sovint un pagès que no podia pagar el que devia se n'havia d'anar a viure a un altre lloc per no esdevenir esclau.		
El pagès que demanava diners a un ric responia amb la seva pròpia persona si no podia tornar-los.		

**10. Acaba les següents definicions sobre aspectes de la societat de l'antiga Grècia.**

1. L'**oligarquia** era el govern.....
2. S'entenia per **democràcia** el govern.....
3. S'anomenava **tiranía** el govern.....
4. L'**Ekklesia** era l'assemblea de .....

**11. Per què es pot afirmar que la democràcia atenesa a l'Antiga Grècia era una democràcia limitada?**

.....

.....

.....

.....

**12. Indica si les afirmacions que es fan sobre l'època romana són correctes o no. Marca amb una X la casella corresponent.**

	<b>SÍ</b>	<b>NO</b>
La ciutat de Roma va ser fundada l'any 753 aC	<b>X</b>	
La civilització romana va passar per tres grans períodes: <b>monarquia, república i imperi</b>		
El primer dels emperadors romans va ser Ròmul		
Els patricis era un grup social de l'antiga Roma format per petits pagesos, artesans i comerciants.		
El cristianisme es va escampar pel territori romà durant el període republicà		
Els lliberts eren esclaus als quals els seus amos havien concedit la llibertat		

13. Observa les imatges següents de l'època romana i digues si són certes les afirmacions que es fan. Marca amb una X la casella corresponent.

**IMATGE A**




**IMATGE B**




**IMATGE C**

	Sí	No
A. Temple		
B. Aqüeducte		
C. Teatre		




14. A continuació tens diverses imatges artístiques. Indica'n la tipologia. Marca amb una X la casella corresponent

**A**



**B**



C

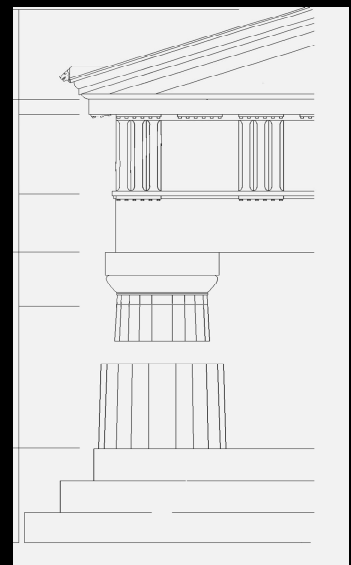




D



	A	B	C	D
Pintura rupestre				
Relleu				
Escultura exempta				
Un fresc				

**15. Indica al dessota de cada dibuix quin correspon a l'ordre dòric, quin a l'estil jònic i quin a l'estil corinti**



.....

.....

.....

**16. Escriu breument per quins raons has classificat els tres ordres grecs de la manera que ho has fet.**

.....

.....

.....

.....

.....

.....